



① ()に かずを かきなさい。(1つ8てん/16てん)




(12) ひき



(8) こ

② 1本の ^{ぼん}木に ^きバナナが 15本 ^{ほん}ついて
います。ゴリラの ^{ほん}ジョージくんが 5本
^た食べて、^{ほん}キャサリンちゃんが 3本
^た食べました。木に ^きバナナは
^{ほん}なん本の ^{ほん}こっていますか。(30てん)



しき

15 - 5 - 3

こたえ

(7本)



1から20までの数を使い、順序や集まり、数の合成、分解などを通じて記数法が、理解できるようにします。

③ □に かずを かきなさい。(1つ5てん/30てん)

① 11 - 12 - 13 - 14 - 15

② 8 - 9 - 10 - 11 - 12

③ 17 - 16 - 15 - 14 - 13

④ 20 - 19 - 18 - 17 - 16



④ □に かずを かきなさい。(1つ6てん/24てん)

① 10と 6 で 16です。

② 10 と 10で 20です。

③ 5と 10で 15 です。

④ 13は 5と 5と 3 です。



*さんすうのテスト

さんすうは、このほんでならうもの

[使用フォント]

UD デジタル教科書体 R
UD デジタル教科書体 M
UD デジタル教科書体 B
UD デジタル教科書体 H